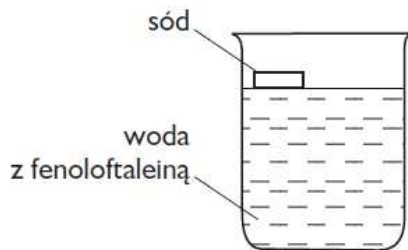


Temat: Otrzymywanie wodorotlenku sodu i wodorotlenku wapnia

Grupa III

Uzupełnij obserwacje na podstawie schematu doświadczenia. Zapisz równanie zachodzącej reakcji chemicznej oraz podaj nazwy substratów i produktów.

.....
imię i nazwisko ucznia
.....
data klasa



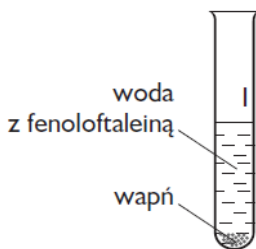
Obserwacje: Sód gwałtownie reaguje z,
poruszając się po
Fenoloftaleina

Równanie reakcji chemicznej:

Nazwy substratów:

Nazwy produktów:

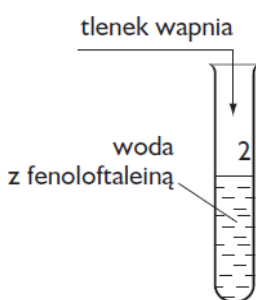
Napisz równania reakcji chemicznych przedstawionych na schematach. Zapisz nazwy substratów i produktów tych reakcji chemicznych.



Równanie reakcji chemicznej:

Nazwy substratów:

Nazwy produktów:



Równanie reakcji chemicznej:

Nazwy substratów:

Nazwy produktów: